

<p style="text-align: center;">KAMU PERSONEL SEÇME SINAVI ORTAÖĞRETİM GENEL YETENEK TESTİ – GENEL KÜLTÜR TESTİ 28 KASIM 2010</p> <p>A</p>
--

DİKKAT!

SINAVA BAŞLAMADAN ÖNCE AŞAĞIDAKİ UYARILARI MUTLAKA OKUYUNUZ.

1. Adınızı, soyadınızı, T.C. Kimlik Numaranızı ve sınav salon numaranızı aşağıya yazınız.

ADINIZ	:
SOYADINIZ	:
T.C. KİMLİK NUMARANIZ	:
SINAV SALON NO.	:

2. Soru kitapçığının türü **A**'dır. Bunu cevap kâğıdınızdaki ilgili alana kodlayınız. Salon görevlileri tarafından paraflanması sağlanacaktır.
Bu kodlamayı cevap kâğıdınıza yapmadığınız veya yanlış yaptığınız takdirde, sınavınızın değerlendirilmesi mümkün değildir.
3. Genel Yetenek Testi ve Genel Kültür Testi için verilen **toplam** cevaplama süresi **120 dakikadır (2 saat)**.
4. Genel Yetenek ve Genel Kültür Testlerinin her birinde **60 soru** vardır.
Bu testlerin başladığı sayfalar şöyledir:
Genel Yetenek Testi 1
Genel Kültür Testi 15
5. Cevaplamaya istediğiniz testten ve sorudan başlayabilirsiniz. Her soru ile ilgili cevabınızı, cevap kâğıdında o soru için ayrılmış olan yere işaretlemeyi unutmayınız.
6. **Testler puanlanırken her testteki doğru cevaplarınızın sayısından yanlış cevaplarınızın sayısının dörtte biri düşülecek ve kalan sayı o testle ilgili ham puanınız olacaktır. Bu nedenle, hakkında hiçbir fikrinizin olmadığı soruları boş bırakınız. Ancak, soruda verilen seçeneklerden birkaçını eleyebiliyorsanız kalanlar arasından doğru cevabı kestirmeye çalışmanız yararınıza olabilir.**
7. Sınavda uyulacak diğer kurallar bu kitapçığın arka kapağında verilmiştir.

Bu testlerin her hakkı saklıdır. Hangi amaçla olursa olsun, testlerin tamamının veya bir kısmının Merkezimizin yazılı izni olmadan kopya edilmesi, fotoğrafının çekilmesi, herhangi bir yolla çoğaltılması, yayımlanması ya da kullanılması yasaktır. Bu yasağa uymayanlar gerekli cezai sorumluluğu ve testlerin hazırlanmasındaki mali külfeti peşinen kabullenmiş sayılır.

GENEL YETENEK TESTİ

2010 - KPSS / ORTAÖĞRETİM

1. Bugüne değin hiç aynı ortamda çalışmadık. Ama çalışma disiplini ve işindeki başarısı açısından yerinde değil de yanında olmayı istediğim sayılı kişilerden biridir o.

Bu cümledeki altı çizili sözle anlatılmak istenen aşağıdakilerden hangisidir?

- A) Sayıp sevmek B) Onun gibi davranmak
C) Birlikte çalışmak D) Örnek göstermek
E) Düşüncesini sorgulamak

2. Birlikte çalıştığı gençlerin önünde yollar açar, onlara yeni iş olanakları sağlar. Bu konuda kendisine yöneltilen eleştirileri kulak ardı eder, söylenenlere hiç alırmaz. Her yenilikten ilkin onun haberi olur, kulağı deliktir. Bizi neşelendiren, tatlı sohbetleri vardır, yaptığımız işe değer verir. Olaylara sakin, ılımlı ve temkinli yaklaşır, soğukkanlılığını her zaman korur.

Bu parçadaki numaralanmış sözlerden hangisi kendisinden sonra gelen açıklamayla anlamca ilgili değildir?

- A) I. B) II. C) III. D) IV. E) V.

3. I. Kendine güvenen kişilerin başaramayacakları iş yoktur.
II. Birlikte duymak düşünmek, amaca ulaşmada en etkili yoldur.
III. Toplumsal yaşamda birlik sağlanamazsa güven ve rahatlık da olmaz.
IV. İnsanlar el ele verir, yürekler birlikte çarparsa başarının önünde engel kalmaz.
V. Bir işi başarmanın koşulu karşılaşılan engellere sağduyuyla yaklaşımdır.

Yukarıdaki numaralanmış cümlelerden hangileri anlamca birbirine en yakındır?

- A) I. ve II. B) I. ve III. C) II. ve III.
D) II. ve IV. E) III. ve V.

4. Yağmur çok yağdığı için değil, şemsiyeniz olmadığı için ıslanırsınız.

Bu cümleyle aşağıdakilerden hangisi arasında anlamca bir ilişki vardır?

- A) Olumsuzlukların farkında olmakla birlikte, onların zararlı etkilerini önlemek için yanlış yollar seçiyorsunuz.
B) Başarısızlığınızın nedeni, karşılaştığınız güçlükler değil, yeniliklere ayak uyduramamanızdır.
C) Sorunları çözmeye çalışmak yerine, onları benimsiyorsunuz.
D) Hiç akla gelmeyecek durumlarla karşılaşınca ne yapacağınızı bilemiyorsunuz.
E) Zarar görmeniz büyük bir tehlikeyle karşılaşmanızdan değil, gereken önlemi almamanızdan kaynaklanıyor.

Diğer sayfaya geçiniz.

5. (I) Bu kentte ilk olarak, bana gülümseyerek bakan beyaz badanalı evlerle göz göze geldim. (II) Bütün damlar, yosun tutmuş oluklu kiremitlerle kaplıydı. (III) Balkon demirleri mavi renkteydi. (IV) Cam içlerinde rengârenk sardunyalar göze çarpıyordu. (V) Sokaklar daracaktı, arabam için güçlükle bir park yeri buldum. (VI) Sonra, kahvedeki masalardan birine oturup etrafımdaki insanlarla sohbet etmeye başladım.

Bu parçadaki numaralanmış cümlelerin hangisinde, insana özgü nitelikler cansız bir varlığa aktarılmıştır?

- A) I. B) II. C) III. D) IV. E) V.

6. (I) Yaklaşık yüz yıl ayakta kalabilen talihsiz kent Machu Picchu, bir salgın hastalık yüzünden terk edildi. (II) Kenti İnka halkının büyük bir çoğunluğu görmemişti, Batı ise onunla beş yüz yıl sonra tanışacaktı. (III) And Dağları üzerinde iki bin dört yüz metre yükseklikte kurulan kenti 1911 yılında Amerikalı tarihçi Hiram Bingham keşfetti. (IV) Kente, Urubomba vadisinden geçen kırk sekiz kilometrelik "İnka Kraliyet Yolu" ile ulaşılabiliyordu. (V) Machu Picchu 1983'ten sonra UNESCO Dünya Miras Listesi'ndeki yerini aldı.

Bu parçadaki numaralanmış cümlelerin hangisinde neden belirtilmiştir?

- A) I. B) II. C) III. D) IV. E) V.

7. (I) Dünya tarihi üzerine yapılan araştırmalarda, insanlık tarihinin üç önemli gelişme sayesinde değiştiği ve yeni bir evreye girdiği belirtilir. (II) Bunlardan birincisi pusulanın, ikincisi barutun, üçüncüsü de matbaanın icadıdır. (III) Matbaanın icadı 1450'li yıllara rastlar. (IV) Ondan önce insanlar düşüncelerini el yazısıyla kitaplaştırıp çoğaltmıştır. (V) Bunlar sayıca fazla olmadığı için de bilgi yeterince yayılamamıştır.

Bu parçadaki numaralanmış cümlelerle ilgili olarak aşağıda verilenlerden hangisi yanlıştır?

- A) I. cümlede, bir bilginin nereden edinildiği belirtilmiştir.
B) II. cümlede, I. cümleye bağlı bir açıklama yapılmıştır.
C) III. cümlede, eldeki verilere güvenilemeyeceği belirtilmiştir.
D) IV. cümlede, eski bir uygulamadan söz edilmiştir.
E) V. cümlede, sonuç açıklanmıştır.

8.

- I. Odaları birer birer gezdi.
II. Düşüncelerini açık açık anlattı.
III. Bu hafta kitaplarını okuyup bitirdim.
IV. Ağlamaktan gözleri şişti.
V. Söylenenleri eksiksiz yerine getirdi.

Yukarıdaki numaralanmış cümlelerin hangilerindeki altı çizili sözcükte hem ikinci hem de üçüncü tekil kişiye ait olma anlamı vardır?

- A) I. ve III. B) II. ve III. C) II. ve IV.
D) III. ve V. E) IV. ve V.

Diğer sayfaya geçiniz.

9. Milas'ta, MÖ 4. yüzyıla ait bir mezar odası bulundu.

Lahdin, Karia Satraplarından birine ait olduğu düşün-
II

nülüyor. Pek çok arkeolog, lahdi, "Anadolu'da asrın
III

buluntusu" olarak niteliyor. Mezarın, dünyanın yedi
IV

harikası arasında yer alan Halikarnassos Mausoleion'

u ile bağlantısı olduğu düşünülüyor. Çünkü mezar sa-
V

hibinin betimlemeleri ile Mausolos'un British Museum'

daki heykeli benzerlik taşıyor.

Bu parçadaki numaralanmış sözlerden hangisi bir ismi niteleme ya da belirtme amacıyla kullanılmıştır?

- A) I. B) II. C) III. D) IV. E) V.

10. **Aşağıdakilerin hangisinde soru, işi yapanı buldurmaya yöneliktir?**

- A) Yarın sonuçlar açıklanacak mı?
B) Hafta sonunda sinemaya mı gitsek?
C) Bahçeyi böylesine dağıtan fırtına değil mi?
D) Olanları sana anlattı mı?
E) Taşınmak çok mu zor oldu?

11. **Aşağıdaki cümlelerin hangisinde bir yazım yanlışı vardır?**

- A) Olanları öğrenince tepkisi de sert oldu.
B) Çağırsam o da bizimle gelir mi ki?
C) Anladım ki onlar bu konuda haksız değiller.
D) Anlattıkları hiç de inandırıcı görünmüyor.
E) Verdiği karar pekte akıllıca değildi.

12. Çay bitkisinin Doğu Karadeniz Bölümü'ne ilk olarak
I

hangi dönemde ve kimler tarafından getirildiği bilinmi-
II

yor. Birinci Dünya Savaşı öncesinde Batum ve Çakva

tarafalarında çalışmış Karadeniz'li köylülerin, memle-
III

ketlerine dönerken bu bitkinin tohumlarını getirmiş

olabileceği düşünülüyor. Günümüzde çay ekim alan-

ları Trabzon'un Araklı ilçesinden başlayarak
IV

Gürcistan sınırına kadar uzanıyor.
V

Bu parçadaki altı çizili sözlerden hangisinin yazım yanlıştır?

- A) I. B) II. C) III. D) IV. E) V.

Diğer sayfaya geçiniz.

13. İnsanın insanı anlama (I) anlatma (II) uğraşında en iyi araç sanattır. Sanat (III) yaratıldığı dönemin (IV) çağın insanlık durumunu gösteren bir aynadır. Sinema, bu bakış açısıyla ele alınmalı (V) beyaz perdede çağımızın insanlık durumunun gereği gibi yansıtılıp yansıtılmadığına bakılmalıdır.

Bu parçadaki numaralanmış yerlerden hangisine virgül (,) konulması yanlış olur?

- A) I. B) II. C) III. D) IV. E) V.

14. Aşağıdaki cümlelerin hangisinde bir anlatım bozukluğu vardır?

- A) İki yıl öncesine kadar benim ve kardeşimin odası aynıydı.
B) Yaşama çok yönlü bakabilmesi öykülerinin beğenilmesini sağlıyordu.
C) Dünyayı dolaşmak çocukluğumdan beri en büyük hayalimdir.
D) Herkes onu çok seviyor ve örnek alıyordu.
E) Yapıtlarında, başından geçen ilginç olaylara da yer veriyordu.

15. Türkçe, diller arasında tüm dünyada yaygın olarak kullanılan dillerden biridir.

Bu cümledeki anlatım bozukluğu aşağıdaki değişikliklerin hangisiyle düzeltilebilir?

- A) "olarak" sözcüğü atılarak
B) "tüm dünyada" sözü atılarak
C) "diller arasında" sözü atılarak
D) "dillerden biridir" yerine, "bir dildir" sözü getirilerek
E) "yaygın olarak" yerine, "yaygın biçimde" sözü getirilerek

16. Bu yazıdaki cümlelerin birbirleri ile "olup, olmuşken,"
I II

olduğu hâlde" gibi gereksiz sözlerle uzatılması
III IV

anlatımın akıcılığını engelliyor.
V

Bu cümledeki anlatım bozukluğunu gidermek için numaralanmış sözlerden hangisi atılmalıdır?

- A) I. B) II. C) III. D) IV. E) V.

17. (I) Geçitağzı, Istrancaların kuzeybatısında yer alıyor. (II) Bulgaristan sınırına çok yakın bir köy. (III) Buradaki ormanlar en önemli geçim kaynağı. (IV) Köylüler, devlete ait ormancılık işletmelerinin yanı sıra kendi ihtiyaçları için de ağaç kesimi yapıyorlar. (V) Devletin belirlediği alanlar dışındaki hiçbir yerde ağaçlara dokunulmuyor. (VI) Köydeki ağaçların en az yirmi yıllık bir öyküsü var.

Bu parçadaki numaralanmış yerlerin hangilerinden sonra düşüncenin akışına göre "Bu konuda son derece bilinçliler." cümlesi getirilebilir?

- A) I. ya da II. B) I. ya da III. C) II. ya da III.
D) III. ya da VI. E) IV. ya da V.

Diğer sayfaya geçiniz.

18. (I) Yoğun iş koşuşturması sırasında, yorulduğumuzda akla ilk gelen içeceklerden olan kahve sade olarak içildiğinde kalori içermez. (II) Ancak süt, krema ve şeker eklenirse kahve de kalori içerir. (III) Hatta kimi şurupların eklenmesi durumunda kahve, bir kalori bombası hâline bile gelebilir. (IV) Kahve, zihinsel ve bedensel gücü artırır. (V) Ayrıca güçlü ve doğal bir antioksidandır. (VI) Aynı zamanda bileşimindeki kafeinin metabolizmayı hızlandırdığı bilinir. (VII) Vücuttaki yağların yakılmasını artırıcı etkisi olduğu da yapılan bazı araştırmalarla belirlenmiştir.

Bu parça iki paragrafa ayrılmak istense ikinci paragraf hangi cümleyle başlar?

- A) II. B) III. C) IV. D) V. E) VI.

19. Gökyüzü açık, hava güzel mi güzel. Uzaktaki dağlardan birinin üzerinde beyazımsı bir bulut kümesi... Yol boyunca havanın güzelliği ile çevrenin yeşilliği, tanımlanması güç bir mutluluk veriyor bana. Çok yükseklerden, gökyüzümüzün güvencesi bir jet uçuyor Ankara'ya doğru, arkasında kuyruklu yıldız andıran ak dumanlar bırakarak. Jetin altında belli belirsiz bir kuş uçuyor. Tanrım, yurdumuz ne güzel!

Bu parçanın anlatımıyla ilgili olarak aşağıdakilerden hangisi söylenemez?

- A) Kimi varlıkların betimlendiği
B) Farklı cümle türlerine yer verildiği
C) Pekiştirme yapıldığı
D) Benzetmeye yer verildiği
E) Öznellikten kaçınıldığı

20. Yaşamını alışkanlıklarla sınırlamış daha doğrusu onların tutsağı olmuş bir insanın yazar olduğunu düşünmek üzücüdür. Düş kurmayan, rüya görmeyen bir yazar, yazdıkça yalnızca kupkuru bir yazıcıya dönüşecektir.

Bu parçaya göre, bir yazarda kesinlikle bulunması gereken nitelik aşağıdakilerden hangisidir?

- A) Çalışkanlık B) Yalınlık C) Titizlik
D) Yaratıcılık E) Gerçekçilik

21. Çocukluğu ve ilk gençliği İstanbul'un Kadıköy semtinde geçmiş, sürekli şehir hatları vapurlarıyla gidip gelen biri olarak vapurun yan tarafında, denizle iç içe olan bölümde oturacaktım. Ama vapurun bir yanında insanı ürperten rüzgâr, öbür yanında da yüzü yakan güneş vardı. Çaresiz, üst kattaki açık ön güverteye çıktım. Sonbahar, İstanbul'a ağır ağır gelmekteydi. Bunaltıcı sıcaklar geride kalmıştı. Üşütme bile arada bir ürperten poyraz, havanın pusunu azalttığından daha net, daha parlak bir manzara ortaya çıkmıştı.

Bir deniz yolculuğunun anlatıldığı bu parçada aşağıdakilerden hangisine değinilmiştir?

- A) Rüzgârın etkisiyle görüntünün değiştiğine
B) Yazarın, sonbahar mevsimini sevmediğine
C) Vapurda, oturulacak güzel yer bulmanın zor olduğuna
D) Vapur yolculuğundan birçok kişinin hoşlandığına
E) İstanbul'un bir semtiyle ilgili bilgilere

22. Farklı liselerde okuyan, farklı seslerle öyküler yazan bu gençler, farklı dünyalar seriyorlar önümüze. Her genç kendi sesiyle yazıyor. Böylece biz de her birinin ne kadar zengin bir dünyası olduğunu öğreniyor ve bu çok sesli dünyanın parçası oluyoruz. Kısaca söylemek gerekirse her genç okurlarına bir şeyler söylüyor, "daha iyi bir dünya özlemi"ni dile getiriyor.

Bu parçada sözü edilen gençlerin öyküleriyle ilgili olarak vurgulanmak istenen aşağıdakilerden hangisidir?

- A) Geniş kitlelere seslendiği
B) Mutsuzlukların anlatılmasında araç olduğu
C) Ödül alma amacıyla yazıldığı
D) Yazarlarının özelliklerini yansıttığı
E) İnsanları bireysellikten uzaklaştırdığı

23. Yazı, bir düşüncenin belli işaretler yardımıyla saptanmasıdır. Bilindiği gibi, insan önce sesler çıkarmış yani konuşmuş, sonra yazmıştır. Sesten simgeye geçiş, insan zekâsının benzersiz bir etkinliği; insan evriminin, binlerce yıllık serüvenin yetkin bir ürünüdür. Konuşma, birinci derecede önemli iletişim aracıdır. Günlük iletişimde ikinci derecede önem taşıırken yazı, sözlü iletişimin önüne geçmiştir. Çünkü bilinir ki "----."

Bu parçada boş bırakılan yere düşüncenin akışına göre aşağıdakilerden hangisi getirilemez?

- A) Söz uçar, yazı kalır
- B) Âlim unutmuş, kalem unutmamış
- C) Bin bilsen de bir bilene danış
- D) En soluk mürekkep en sadık bellekten üstündür
- E) Kalem, düşüncenin taşıyıcısıdır

24. İnsan, içinde yaşadığı ortak kültürün ürünüdür. Benzer koşulları paylaşanlar, benzer biçimde düşünür. Çünkü kültür, toplumu oluşturan bireylerin duyuş, düşünüş ve davranış birliğidir. Bu birlik bir ulusun, bir toplumun öbür toplumlardan farklı özellikler taşıyan koşullarının etkisiyle oluşur. Bu anlamda kültür, ulusal bir nitelik taşımaktadır. Ama özellikleri çok farklı olan toplumların bile birbirlerine benzeyen bazı özelliklere sahip olması ve çağdaş dünyada benzer özelliklerin hızla artması, kültürün evrensel olduğunu gösterir.

Bu parçadan kültürle ilgili olarak aşağıdakilerin hangisine ulaşamaz?

- A) Toplumlar arası kültürel farklılıkların giderek azaldığına
- B) Toplumdan topluma farklılık gösterdiğine
- C) Yaşanılan ortamdan etkilendiğine
- D) Uluslararası nitelikler içerdiğine
- E) Kuşaktan kuşağa nasıl aktarıldığına

25. İnsanoğlunun keşfettiği değerli maddelerden biri olan sedef, binlerce yıl öncesinde de mücevher yapımında ve eşyaların süslenmesinde kullanılıyordu. Sedefi ilk kez, Mezopotamya'da Sümerlerin, ahşap işlerinde kullandığı düşünülüyor. Süsleme sanatında hâlâ sedefe rastlanıyor. Osmanlılar Döneminde de sedef kullanımı, denizden çıktığı, az bulunduğu, beyaz renkli olduğu için o yıllarda altından daha fazla ilgi gördü. Mücevher dışında, özellikle süsleme sanatında kullanılan sedef, ahşaptan yapılmış çeşitli eşyaların üzerine yerleştirilerek eşyaların daha değerli olmasını sağladı.

Bu parçada sedefle ilgili olarak aşağıdaki sorulardan hangisinin cevabı yoktur?

- A) Bir dönem niçin değerli ve üstün tutulmuştur?
- B) İşlemciliğinin giderek azalmasının nedeni nedir?
- C) Ne gibi özellikleri vardır?
- D) Günümüzde de kullanılıyor mu?
- E) Kullanıldığı eşyanın değerini artırır mı?

26. Latince adı "Rhus Coridria" olan sumak, Torosların kıyından uzak kesimlerinde yetişen, kışın yapraklarını döken, çalı görünümüne sahip bir bitkidir. Yaprakları uzun, sivri ve tüylüdür. Üzüm salkımına benzeyen çiçekleri, sonbahara doğru, kızıl çalan kırmızı mercimeğe benzer meyvelere dönüşür. Meyveler toplanır, kurutulur, sonra da öğütülür. Elde edilen toz, baharat olarak kullanılır. Sumağın, iştahı açmasının yanı sıra, sindirimi de kolaylaştırdığı söylenir.

Bu parçada sumakla ilgili olarak aşağıdakilerden hangisine değinilmemiştir?

- A) Yurdumuzun hangi bölgesinde yetiştiğine
- B) Belli başlı özelliklerinin neler olduğuna
- C) Hangi özelliğinin bir başka bitkiye benzediğine
- D) İlaç yapımında kullanıldığına
- E) Baharat olarak kullanılabilmesi için ne tür işlemlerden geçirildiğine

Diğer sayfaya geçiniz.

27. 5137 metrelik yüksekliğiyle Ağrı Dağı'nın Atatürk zirvesi ülkemizin en yüksek noktası. Destanlara konu olan, adına filmler yapılan, romanlar yazılan Ağrı Dağı, görkemli görünümü ve dört mevsim zirvesinde erimeyen buzulu ile dağcılar için hâlâ bir efsane. Binlerce yıllık bir tarihe sahip olan bu buzul, yaklaşık üç yüz metre kalınlığında, beş kilometre çapında. Kapladığı alan itibarıyla Türkiye'nin en büyük buzulu. Yaşar Kemal'in Ağrı Dağı Efsanesi'ni yazdığı günlerde Ağrı Dağı'nın zirvesine kimsenin çıkabileceğine inanılmıyordu. Marco Polo'nun hiçbir zaman çıkılmayacak dediği noktaya ilk olarak 1829'da tırmanıldı. Bunu daha sonra birçok başarılı zirve çıkışı izledi. Ağrı Dağı ile ilgili bir inanış Nuh'un Gemisi'nin burada karaya oturduğu yönündedir. Günümüzde bu efsanevi zirveye çıkmak üzere, her yıl dünyanın dört bir yanından binlerce kişi geliyor.

Bu parçada Ağrı Dağı'yla ilgili olarak aşağıdakilerden hangisine değinilmemiştir?

- A) Üzerindeki buzulun boyutlarına
- B) Kimi sanat ürünlerine konu olduğuna
- C) Zirveye çıkılış tarihine
- D) Uluslararası düzeyde ilgi gördüğüne
- E) Kış döneminde bölge turizmüne katkı sağladığına

28. Kayak, son yıllarda geniş kitlelere daha çok hitap etmeye başlayan bir spor hâline geldi. Marmara'da Uludağ, Batı Karadeniz'de Kartalkaya ve Iğaz, İç Anadolu'da Elmadağ ve Erciyes, Doğu Anadolu'da Palandöken ve Sarıkamış tesisleri Türkiye'nin önde gelen kayak merkezleri arasında yer alıyor. Bu merkezlerdeki nitelikli konaklama tesislerinde en iyi hizmet sunulmaya çalışılıyor. Tatil amacıyla kayak merkezlerine ilk kez gidenler isterlerse eğitmenlerden ders alabiliyor.

Bu parçada kayak sporuyla ilgili olarak aşağıdakilerden hangisine değinilmemiştir?

- A) Tesislerde, elverişli ortamın sağlandığına
- B) Bilmeyenlere öğrenme olanağı sunulduğuna
- C) Bizdeki merkezlerin başka ülkelerinkinden üstün olduğuna
- D) Başlıca tesislerin nerelerde bulunduğuna
- E) İlgi duyanların sayısının giderek arttığına

29. Çamlıdere'nin kuruluşu çok eskilere dayanıyor ama başkentin bir ilçesi olduğu hâlde ne zaman kurulduğunu kimse bilmiyor. Çünkü bugüne kadar hiç konuşulmadı Çamlıdere'nin kültürel değerleri. Bu anlamda belki Ankara'nın en şanssız ilçesi belki de yapsatçıların eline düşmediği için en şanslısı. Bilinmediği için hoyrat eller alıp onararak satmaya kalkmadı Çamlıdere'nin eski evlerini. Modern mimarinin düz ve yalın duvarlarına inat, burada duvarlar gereksinimi karşılayacak dolaplar, raflar, terekler, yükükler, kilerler ve nişlerle donanmış. Koruma altına alınması gereken bu evler özelliklerini yitirirse bu, büyük bir tarihî mirasın kaybı olur.

Bu parçada Çamlıdere'yle ilgili olarak aşağıdakilerden hangisine değinilmemiştir?

- A) Turistlerin ilgisini nelerin çektiğine
- B) Evlerin geleneksel yapı özelliklerini koruduğuna
- C) Yapıların tarihsel bir değer taşıdığına
- D) Fazla tanınan bir yer olmadığına
- E) Evlerin yapımında işlevselliğe önem verildiğine

30. Karia bölgesi, Halikarnassos'un başkent olduğu, kuzeyde Büyük Menderes Nehri ile Dalaman Çayı arasında yer alır. Anadolu'nun yerli halklarından olan Karia halkı, coğrafyalarına uygun olarak hem ana karada hem adalarda hem deniz aşırı ülkelerde yaşardı, savaşçı ve denizci bir kimliğe sahipti. Kendi ülke ve dillerine ne ad verdikleri kesin olarak bilinmese de Karia ülkesine Anadolu'nun en eski dillerinden birinde "Karuwa", Mısır hiyerogliflerinde ise "Keres" denir. Antik Mısır kaynaklarında "denizden gelen tunç adam" olarak adlandırılan Karia halkı, önceleri Mısır'da paralı asker olarak çalışmış, daha sonra yerleşik halkın arasına karışarak oraya yerleşmişlerdir. Gelenek ve göreneklerini yöreye taşıyan Karia halkı, Mısır'ın yaşam şeklini benimsemiştir.

Bu parçada Karia halkıyla ilgili olarak aşağıdakilerden hangisine değinilmemiştir?

- A) Ülkelerinin değişik şekillerde adlandırıldığına
- B) Konuştukları dilin ne gibi özellikler taşıdığına
- C) Farklı bir kültürü özümlediklerine
- D) Yaşam biçimlerinin kimlerinkiyle örtüştüğüne
- E) Halkının toplumsal özelliklerine

Diğer sayfaya geçiniz.

31.

$$\frac{4(-6)}{-5-(-6)+(-7)}$$

işleminin sonucu kaçtır?

- A) -3 B) -2 C) 2 D) 3 E) 4

32.

$$\frac{\left(\frac{1}{3}\right)^{-1} : \left(\frac{1}{3}\right)^3}{3^4}$$

işleminin sonucu kaçtır?

- A)
- $\frac{1}{3}$
- B)
- $\frac{1}{9}$
- C) 1 D) 3 E) 9

33.

$$\frac{2}{\sqrt{3}+1} + \frac{1}{\sqrt{3}-2}$$

işleminin sonucu kaçtır?

- A) -3 B) -2 C) -1 D) 2 E) 3

34.

$$\left(\sqrt[4]{a \cdot \sqrt[3]{a}}\right) \left(\sqrt[3]{a \cdot \sqrt[4]{a}}\right) = 8$$

olduğuna göre, a kaçtır?

- A) 2 B) 4 C) 8 D) 16 E) 32

35.

$$a = \frac{11}{10}$$

$$b = \frac{111}{100}$$

$$c = \frac{1111}{1000}$$

olduğuna göre, aşağıdaki sıralamalardan hangisi doğrudur?

- A)
- $a < b < c$
- B)
- $a < c < b$
- C)
- $b < a < c$
-
- D)
- $b < c < a$
- E)
- $c < b < a$

Diğer sayfaya geçiniz.

36. p , pozitif bir sayı olmak üzere,

$$\frac{a}{p} < 0$$

$$a \cdot b < 0$$

$$b + c = 0$$

olduğuna göre, a , b ve c sayılarının işaretleri sırasıyla aşağıdakilerden hangisidir?

- A) +, -, + B) +, +, - C) +, -, -
D) -, +, - E) -, +, +

37.

$$1 - \frac{1 - \frac{x}{2}}{2} = 0$$

olduğuna göre, x kaçtır?

- A) 2 B) 3 C) 4 D) 5 E) 6

38.

$$\frac{3x}{x^2 + x - 2} = \frac{A}{x + 2} - \frac{B}{x - 1}$$

olduğuna göre, $A + B$ toplamı kaçtır?

- A) -3 B) -2 C) -1 D) 0 E) 1

39.

$$x - y = 5$$

$$y + z = 5$$

$$x + y + z = 17$$

olduğuna göre, y kaçtır?

- A) 4 B) 5 C) 6 D) 7 E) 8

40.

$$x \cdot y = 36$$

$$\frac{1}{\sqrt{x}} + \frac{1}{\sqrt{y}} = \frac{5}{6}$$

olduğuna göre, $x + y$ toplamı kaçtır?

- A) 12 B) 13 C) 15 D) 18 E) 20

Diğer sayfaya geçiniz.

41. A, B, C rakamları kullanılarak üç basamaklı ABC ve BAC sayıları oluşturuluyor.

ABC – BAC = 180 olduğuna göre, A – B kaçtır?

- A) 2 B) 3 C) 4 D) 5 E) 6

42. $A = \{x \mid x = 3k + 1, k \text{ pozitif bir tam sayı}\}$ kümesi veriliyor.

A kümesinin elemanlarından kaç tanesi iki basamaklı bir sayıdır?

- A) 30 B) 31 C) 32 D) 33 E) 34

43. a, b ve c tam sayıları için $2 < c < b < a < 8$ sıralaması vardır.

Yukarıdaki bilgiyle birlikte aşağıdakilerden hangisi verilirse bu üç sayı tek türlü belirlenebilir?

- A) $a = 7$ B) $b = 6$ C) $c = 4$
D) $b - c = 1$ E) $b + c = a$

44. Saatteki hızları 96 km ve 112 km olan iki otomobil A ve B kentlerinden birbirlerine doğru aynı anda hareket ederek 2 saat 15 dakika sonra karşılaşıyorlar.

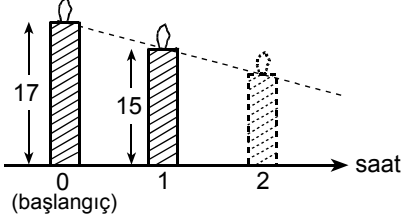
Buna göre, A ile B kentleri arasındaki uzaklık kaç km'dir?

- A) 460 B) 468 C) 476
D) 482 E) 490

Diğer sayfaya geçiniz.

45. VE 46. SORULARI AŞAĞIDAKİ BİLGİLERE GÖRE CEVAPLAYINIZ.

Başlangıçta 17 cm olan bir mum, yakıldıktan sonra boyunda zamana bağlı olarak doğrusal bir azalma görülmektedir.



Yakıldıktan 1 saat sonra bu mumun boyu 15 cm olmuştur.

45. Yakıldıktan 5 saat sonra mumun boyu kaç cm olur?

- A) 5 B) 6 C) 7 D) 8 E) 9

46. Yakıldıktan kaç saat sonra mum tamamen erir?

- A) 9 B) 8,5 C) 8 D) 7,5 E) 7

47. 960 ton kum 10 ve 15 tonluk kamyonlarla taşınmıştır.

Kamyonlar tam kapasite ile toplam 76 sefer yaptıklarına göre, 10 tonluk kamyon kaç sefer yapmıştır?

- A) 36 B) 38 C) 39 D) 42 E) 44

48. Bir işi usta x günde, çırak ise $\frac{5x}{3}$ günde bitiriyor.

Aynı işi ikisi birlikte 15 günde bitirdiklerine göre, çırak yalnız başına kaç günde bitirir?

- A) 20 B) 25 C) 30 D) 35 E) 40

Diğer sayfaya geçiniz.

49. Bir tekstil fabrikasında üretilen ürünlerin % 10'u defoludur.

Sağlam ürünler % 30 kârla, defolu ürünler % 80 zararlarla satıldığına göre, bu fabrikanın kârı yüzde kaçtır?

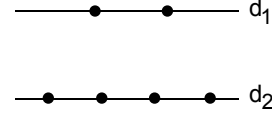
- A) 19 B) 20 C) 21 D) 22 E) 23

50. Aynı ürünü üreten iki makineden birinin günlük üretim kapasitesi x , diğ erinininki ise y 'dir.

x adet üretim yapanın kapasitesi % 35 artırılıp y adet üretim yapanın % 15 azaltılırsa günlük üretim adedi değişmediğine göre, x ile y arasındaki bağıntı aşağıdakilerden hangisidir?

- A) $17x = 27y$ B) $7x = 5y$ C) $7x = 3y$
D) $5x = 9y$ E) $3x = 2y$

51. Aşağıda verilen paralel iki doğrudan d_1 üzerinde iki, d_2 üzerinde dört nokta işaretlenmiştir.



Bu altı noktadan üçü seçiliyor ve seçilenler köşe noktaları olacak biçimde üçgenler çiziliyor.

Bu şekilde kaç tane üçgen çizilebilir?

(Aynı doğru üzerindeki üç noktanın bir üçgen oluşturmadığı kabul edilecektir.)

- A) 10 B) 12 C) 15 D) 16 E) 20

52. Bir meteoroloji istasyonunda, bir kentin beş günlük hava sıcaklığı ölçülüyor. Aşağıdaki tabloda salı, çarşamba ve perşembe günlerindeki sıcaklıklar verilmiştir. Bu kentte pazartesi günü cuma gününe göre 3 derece daha sıcak olmuştur.

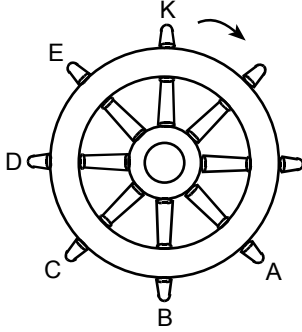
Günler	Sıcaklık ($^{\circ}\text{C}$)
Pazartesi	x
Salı	24
Çarşamba	18
Perşembe	20
Cuma	y

Bu kentte beş günlük ortalama sıcaklık 19°C olduğuna göre, x kaçtır?

- A) 14 B) 16 C) 17 D) 18 E) 20

Diğ er sayfaya geçiniz.

53. Aşağıda bir gemi dümeni gösterilmiştir. Dümeni tutmaya yarayan kollar eşit aralıktır.



Bu geminin kaptanı, dümeni önce ok yönünde 135° daha sonra ok yönüne ters yönde 225° döndürüyor.

Son durumda dümenin K kolu başlangıç konumundaki hangi noktada olur?

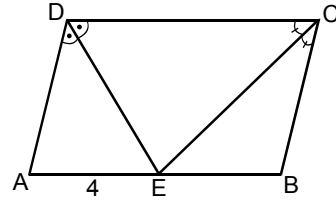
- A) A B) B C) C D) D E) E

54. Bir manav aldığı bir kasa domatesin kilogramını 3 TL'den satarsa 40 TL zarar, kilogramını 4,5 TL'den satarsa 20 TL kâr ediyor.

Bu manav bir kasa domatesi kaç TL'ye almıştır?

- A) 160 B) 175 C) 180 D) 200 E) 210

- 55.



ABCD bir paralelkenar

$$m(\widehat{ADE}) = m(\widehat{EDC})$$

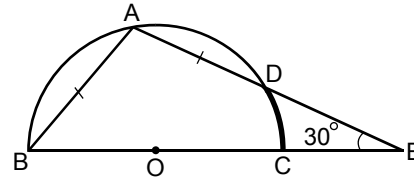
$$m(\widehat{DCE}) = m(\widehat{ECB})$$

$$|AE| = 4 \text{ cm}$$

Yukarıdaki verilere göre, ABCD paralelkenarının çevresi kaç cm'dir?

- A) 18 B) 20 C) 24 D) 28 E) 30

- 56.



O merkezli
yarım çember

$$m(\widehat{AEB}) = 30^\circ$$

$$|AB| = |AD|$$

Yukarıdaki şekilde A, B, C ve D noktaları çember üzerindedir. A, D, E ve B, C, E noktaları doğrusaldır.

Buna göre, DC yayının ölçüsü kaç derecedir?

- A) 15 B) 20 C) 25 D) 30 E) 35

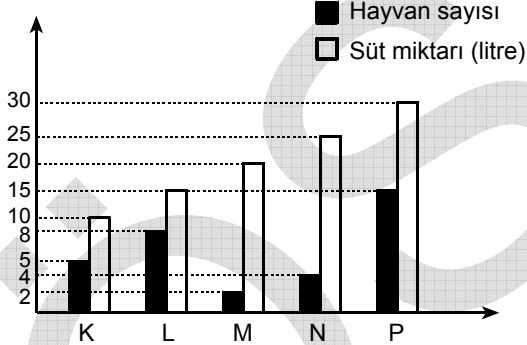
Diğer sayfaya geçiniz.

57. Bir iç açısının ölçüsü 135° olan düzgün çokgenin kenar sayısı kaçtır?

- A) 6 B) 7 C) 8 D) 9 E) 10

58. – 60. SORULARI AŞAĞIDAKİ BİLGİLERE GÖRE CEVAPLAYINIZ.

Bir çiftlikte K, L, M, N ve P türlerinde, süt veren beş farklı hayvan vardır. Aşağıdaki grafikte her bir türdeki hayvan sayısı ve bu türdeki hayvanlardan bir günde elde edilen toplam süt miktarları birlikte verilmiştir.



Örneğin K türünde 5 hayvan vardır ve K'lerin tümünden bir günde elde edilen toplam süt miktarı 10 litredir.

58. Hangi iki türde, bir hayvandan elde edilen ortalama süt miktarları eşittir?

- A) K ve L B) K ve P C) L ve M
D) N ve P E) M ve P

59. Bir günde elde edilen süt miktarları bir daire grafiğiyle gösterilirse 90 derecelik daire dilimine karşılık gelen tür hangisi olur?

- A) K B) L C) M D) N E) P

60. L türündeki hayvanlardan bir günde 90 litre süt elde etmek için bu türdeki hayvan sayısı kaç olmalıdır?

- A) 32 B) 36 C) 40 D) 42 E) 48

**GENEL YETENEK TESTİ BİTTİ.
GENEL KÜLTÜR TESTİNE GEÇİNİZ.**

GENEL KÜLTÜR TESTİ

2010 - KPSS / ORTAÖĞRETİM

1. İslamiyet'ten önce Türklerde devlet başkanları çeşitli unvanlar taşırdı.

Aşağıdakilerden hangisi bu unvanlardan biridir?

- A) Şad B) Kağan C) Tigin
D) Tudun E) Sübaşı

2. Muallim-i Sâni unvanıyla bilinen, eserleri Batı dillerine çevrilerek Avrupa bilim dünyasını etkileyen bilgin aşağıdakilerden hangisidir?

- A) Farabi B) Gazali C) Harezmi
D) Cüveyni E) Bîrunî

3. Selçuklularda, medrese yapımına önem verilmesinde,

- I. İslam dünyasında din bilginlerine gereksinim duyulması,
II. genişleyen devlet yönetiminde görev alacak kişilere gerek duyulması,
III. eğitim ve öğretime önem verilmesi

durumlarından hangileri etkili olmuştur?

- A) Yalnız I B) Yalnız II C) Yalnız III
D) II ve III E) I, II ve III

4. Seyahatname adlı eseriyle XVII. yüzyıl Osmanlı sosyal yaşantısına ilişkin önemli bilgiler veren yazar aşağıdakilerden hangisidir?

- A) Koçi Bey B) Katip Çelebi
C) Evliya Çelebi D) Lâgari Hasan Çelebi
E) Hezarfen Ahmet Çelebi

Diğer sayfaya geçiniz.

5. XVII. yüzyılın sonlarına doğru Osmanlı Devleti dünya siyasetini etkileyen değil, bu siyasetten etkilenen bir konuma gelmeye başlamıştır.

Osmanlı Devleti'nin Avrupa devletleri karşısında bu konuma gelmesinde,

- I. siyasi,
- II. ekonomik,
- III. teknolojik

alanların hangilerinde geri kalması etkili olmuştur?

- A) Yalnız I B) Yalnız II C) Yalnız III
D) II ve III E) I, II ve III

6. Osmanlı Devleti'nde, padişahlığın hanedanın erkek üyelerinin en yaşlısına geçmesi usulü aşağıdaki padişahlardan hangisi zamanında kabul edilmiştir?

- A) IV. Mehmet B) II. Osman C) IV. Murat
D) I. Ahmet E) II. Ahmet

7. II. Mahmut Döneminde imzalanan Sened-i İttifak'ın önemi nedir?

- A) Âyanların gücünün tanınması
- B) Timar sisteminin kaldırılması
- C) Devlet adamlarının bilim ve teknik alanında Avrupa'nın ileri olduğunu kabul etmesi
- D) Yeniçeri Ocağının kaldırılması
- E) Osmanlı Devleti'nin ilk kez yabancılarla ittifak arayışlarına girmesi

- 8.

- I. Hükûmetin padişaha karşı sorumlu olması
- II. Âyan ve Mebuslar Meclislerini açma ve kapatma yetkisinin padişaha ait olması
- III. Mebusan Meclisi üyelerinin dört yılda bir yapılan seçimle meclise girmesi

Kanunuesasi'de yer alan yukarıdaki hükümlerden hangilerinin, Âyan ve Mebuslar Meclislerinin yetkilerini kısıtladığı savunulabilir?

- A) Yalnız I B) Yalnız II C) Yalnız III
D) I ve II E) I, II ve III

9. Tanzimat ve Islahat Fermanlarıyla Müslüman olmayanlara,

- I. bağımsız olma,
- II. yasalar karşısında Müslümanlarla eşit olma,
- III. matbaa açabilme

haklarından hangilerinin verilmesi öngörülmüştür?

- A) Yalnız I B) Yalnız II C) Yalnız III
D) II ve III E) I, II ve III

Diğer sayfaya geçiniz.

10. Birinci Dünya Savaşı'nda Alman Genelkurmayının Osmanlı Devleti'ni yönlendirmesiyle girişilen Süveyş Kanalı harekâtıyla,

- I. İngilizlerin sömürgelerine giden yolu kontrol etmek,
- II. Mısır'ı geri almak,
- III. Arap kabilelerini İngilizlere karşı kıskırtmak

amaçlarından hangilerine ulaşmak istenmiştir?

- A) Yalnız I B) Yalnız II C) Yalnız III
D) II ve III E) I, II ve III

12. 12 Ocak 1920 tarihinde toplanan Osmanlı Mebuslar Meclisinde aşağıdakilerden hangisi kabul edilmiştir?

- A) Seçimlerin yapılması
- B) Yeni bir anayasa yapılması
- C) Misakımillî
- D) Meclisin Ankara'da toplanması
- E) Damat Ferit Hükümetinin düşürülmesi

11. İstanbul Hükümeti, Mustafa Kemal'i aşağıdakilerden hangisi nedeniyle 9. Ordu Müfettişliği göreviyle Anadolu'ya göndermiştir?

- A) Karadeniz bölgesinde güvenliği sağlamak
- B) Yunanlıların İzmir'i işgalini engellemek
- C) Kongreler düzenlemek
- D) Anadolu'da milis kuvvetleri oluşturmak
- E) İngilizlerin Samsun'a çıkmasını engellemek

13. Sivas Kongresi'ni Erzurum Kongresi'nden ayıran özelliklerden biri aşağıdakilerden hangisidir?

- A) Mustafa Kemal'in kongre başkanlığına getirilmesi
- B) Millî Meclisin derhal toplanmasının istenmesi
- C) Müslüman olmayanlara ulusal çıkarlara aykırı ödümler verilmesine karşı çıkılması
- D) Yurdun çeşitli yerlerinde kurulan savunma cemiyetlerinin birleştirilmesi
- E) Temsilciler Kurulu oluşturulması

Diğer sayfaya geçiniz.

14.

- Çukurova bölgesinin Fransız ve Ermeniler tarafından işgalini önlemek
- Yayın ve propaganda yoluyla millî bilincin uyandırılması için çalışmak

Yukarıda belirtilen amaçlar doğrultusunda aşağıdaki cemiyetlerden hangisi çalışmıştır?

- A) Milli Kongre B) Wilson Prensipleri
C) Kilikyalılar D) Teali-i İslam
E) İngiliz Muhipleri

15. 1921 Anayasası'na göre, Meclis üyeleri iller halkınca seçilir, ancak bu üyeler seçildiği ilin değil tüm ulusun temsilcisidir.

Anayasanın bu hükmüyle aşağıdakilerden hangisinin gözetildiği savunulabilir?

- A) Ülkenin ve ulusun bir bütün olduğunun
B) Ülkede bulunan etnik grupların
C) Siyasi görüş farklılıklarının
D) Meclisin yasama ve yürütme yetkisi olduğunun
E) Seçilen üyelerin belli bir süre için seçildiğinin

16. Türkiye'nin,

- I. Irak,
II. Yunanistan,
III. Suriye

devletlerinden hangileriyle sınırı, Lozan Antlaşması'nda belirlenmiştir?

- A) Yalnız I B) Yalnız II C) Yalnız III
D) I ve II E) I, II ve III

17.

- I. Teşvik-i Sanayi Kanunu'nun çıkarılması
II. İş Bankasının kurulması
III. İlk Beş Yıllık Sanayi Planı'nın hazırlanması

Yukarıdakilerin hangileriyle sanayi ve ekonominin canlanması hedeflenmiştir?

- A) Yalnız I B) Yalnız II C) Yalnız III
D) II ve III E) I, II ve III

18. **Aşağıdakilerden hangisi, Menemen Ayaklanması'na ortam hazırlayan nedenler arasındadır?**

- A) Türkiye'nin Milletler Cemiyetinin üye devletlerinden biri olması
B) Rejim karşıtlarının güçlenmesi
C) Takrir-i Sükûn Kanunu'nun çıkarılması
D) Tek dereceli seçim sisteminin kabul edilmesi
E) İstiklal Mahkemelerinin kapatılması

Diğer sayfaya geçiniz.

19. 1924-1930 yılları arasında, çok partili hayata geçmek amacıyla,

- I. Terakkiperver Cumhuriyet,
- II. Serbest Cumhuriyet,
- III. Halk

partilerinden hangileri kurulmuştur?

- A) Yalnız I B) Yalnız II C) Yalnız III
D) I ve II E) I, II ve III

20. Türk Dil Kurumunun amaçlarından biri Türkçeyi yabancı dillerin boyunduruğundan kurtarmaktır.

Buna göre,

- I. toplumsal anlaşma ve bütünleşme,
- II. dili zenginleştirme ve güzelleştirme,
- III. Türkçeye bilim terimleri kazandırma

durumlarından hangilerinin sağlanmaya çalışıldığı savunulabilir?

- A) Yalnız I B) Yalnız II C) Yalnız III
D) II ve III E) I, II ve III

21.

- I. Tekke ve türbelerin kapatılması
- II. İlk kez azınlık okullarının açılması
- III. Okulların Millî Eğitim Bakanlığına bağlanması

Yukarıdakilerden hangileri Cumhuriyet Dönemi gelişmeleri arasındadır?

- A) Yalnız I B) Yalnız II C) I ve III
D) II ve III E) I, II ve III

22. Atatürk, "Millet açıkça bilmelidir. Medeniyet öyle bir kuvvetli ateştir ki, ona kayıtsız kalanları yakar." demiştir.

Atatürk'ün bu sözüyle,

- I. çağdaşlık,
- II. ulusalcılık,
- III. devletçilik

ilkelerinden hangilerinin önemini doğrudan vurguladığı savunulabilir?

- A) Yalnız I B) Yalnız II C) Yalnız III
D) I ve II E) I, II ve III

Diğer sayfaya geçiniz.

23. 21 Haziran 1934 tarihinde Soyadı Kanunu çıkarılmıştır.

Bu Kanun'da uyulması gereken,

- I. ahlaka aykırı ve gülünç kelimelerin yasak olması,
- II. soyadlarının Türkçe olması,
- III. yabancı ırk ve millet adlarının kullanılmaması

koşullarından hangilerinin milliyetçilik anlayışının göstergesi olduğu savunulabilir?

- A) Yalnız I B) Yalnız II C) I ve III
D) II ve III E) I, II ve III

24. Atatürkçü laik anlayış,

- I. kanunlar önünde din ve inanç ayrımı yapma,
- II. din ve devlet işlerini ayırma,
- III. kişisel inanç özgürlüğü tanıma

durumlarından hangilerine karşıdır?

- A) Yalnız I B) Yalnız II C) Yalnız III
D) II ve III E) I, II ve III

25. Türkiye, dünya barışının korunması amacıyla oluşturulan aşağıdaki girişim ve kuruluşlardan hangisine Atatürk Döneminde üye olmuştur?

- A) Milletler Cemiyeti – Kuzey Atlantik Paktı
- B) Kellog Paktı – Milletler Cemiyeti
- C) Kuzey Atlantik Paktı – Birleşmiş Milletler Teşkilatı
- D) Birleşmiş Milletler Teşkilatı – Kellog Paktı
- E) Kellog Paktı – Kuzey Atlantik Paktı

26. Aşağıdakilerden hangisi Atatürk Dönemi siyasi gelişmeleri arasındadır?

- A) Kıbrıs sorununun çıkması
- B) Türkiye'nin Kore Savaşı'na asker göndermesi
- C) Türk-Yunan dostluk antlaşmasının yapılması
- D) Türkiye'nin Kuzey Atlantik Pakıtına üye olması
- E) Hatay Türk Devleti Meclisinin anavatana katılmayı kabul etmesi

Diğer sayfaya geçiniz.

27.

- I. Halkevlerinin açılması
- II. Nüfus sayımı yapılması
- III. Köy Enstitülerinin kurulması

Yukarıdakilerden hangileri Atatürk Döneminde gerçekleşmiştir?

- A) Yalnız I B) Yalnız II C) Yalnız III
D) I ve II E) I, II ve III

28.

- I. Kabotaj Kanunu
- II. Medeni Kanun
- III. Ceza Kanunu

Yukarıdakilerden hangileri, Atatürk Döneminde kabul edilmiş ve uygulanmasına geçilmiştir?

- A) Yalnız I B) Yalnız II C) Yalnız III
D) I ve II E) I, II ve III

29. Atatürk Döneminde Balkan Paktının kurulmasında aşağıdakilerden hangisinin etkisi olmuştur?

- A) Irak'ın bağımsızlığını kazanması
B) Rusya'da rejim değişikliği olması
C) Anlaşmaya taraf devletlerin güvenliklerinin tehlikeye girmesi
D) Birleşmiş Milletler Teşkilatının kurulması
E) Sadabad Paktının kurulması

30. Boğazlar Komisyonunun kaldırılması ve görevlerinin tamamıyla Türk Devleti'ne verilmesi aşağıdakilerden hangisiyle sağlanmıştır?

- A) Montrö B) Mudanya C) Moskova
D) Lozan E) Londra

Diğer sayfaya geçiniz.

31. Türkiye'nin coğrafi konumuyla ilgili olarak aşağıdaki bilgilerden hangisi yanlıştır?

- A) Yengeç Dönencesi'nin kuzeyinde yer alır.
- B) 21 haziranda gündüz süresi güneye gidildikçe uzar.
- C) En batısı ile en doğusu arasında bir saatten fazla yerel saat farkı vardır.
- D) Avrupa, Asya ve Afrika kıtalarının birbirine en çok yaklaştığı yerdedir.
- E) Kuzey Yarım Küre'de, Orta Kuşak'ta yer alır.

32. Kıyı illerinde, kıyı çizgisine paralel uzanan dağ sıralarının bulunması, iç kesimlerde yer alan illerde ise kısa mesafelerde büyük yükselti farkının olması, bu illerin sınırları içerisinde aynı mevsimde bile farklı iklim koşullarının görülmesine neden olur.

Buna göre, aşağıdaki illerin hangisinde, il sınırları içindeki iklim koşulları daha az farklılık gösterir?

- A) Adana
- B) Erzincan
- C) Artvin
- D) Kilis
- E) Hakkâri

33. Yatak eğimi ve yağış rejimi, Doğu Karadeniz Bölümü akarsularının aşağıdaki özelliklerinden hangisi üzerinde etkili değildir?

- A) Enerji potansiyelinin yüksek olması
- B) Buzullardan beslenmeleri
- C) Akış hızlarının fazla olması
- D) Yıl boyunca su taşımaları
- E) Derin vadilerde akmaları

34. Aşağıdakilerden hangisinin artışı, Türkiye'deki hızlı nüfus artışıyla açıklanamaz?

- A) Gelir dağılımındaki dengesizliğin
- B) İşsizliğin
- C) Okul gereksiniminin
- D) Alt yapı gereksiniminin
- E) İl sayısının

35. Aşağıdakilerden hangisinin, Türkiye'deki iç göçlerin azalmasında etkili olması beklenmez?

- A) Öğrencisi az olan köylerdeki okulların kapatılarak taşınmalı eğitime geçilmesi
- B) Sınır kapılarındaki ticaretin artırılması
- C) Tarımda verim artırıcı yöntemlerin yaygınlaştırılması
- D) Ahır hayvancılığının geliştirilmesi
- E) Endüstri tesislerinin yurt genelinde yaygınlaştırılması

Diğer sayfaya geçiniz.

36. Türkiye'de Ege ve Akdeniz kıyılarında yer alan ve 40-50 yıl öncesinde birer sahil köyü ya da kasabası niteliğinde olan yerleşmelerin bazıları turizmin etkisiyle günümüzde birer kent niteliği kazanmıştır.

Aşağıdaki kentlerin hangisi bu duruma örnek gösterilemez?

- A) Bodrum B) Marmaris C) İskenderun
D) Kemer E) Çeşme

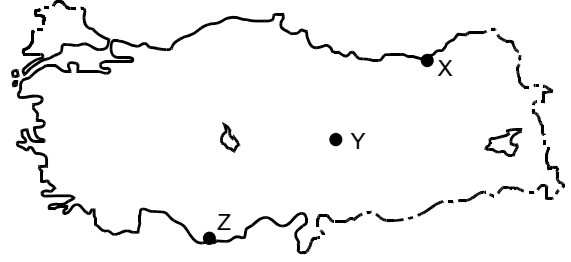
37. Türkiye'de son dönemlerde,

- tarımda çalışan işçi sayısının azalması,
- hasat süresinin kısalması,
- hasat sırasında ürün kaybının azalması

aşağıdakilerden hangisinin bir sonucudur?

- A) Makine kullanımının yaygınlaşmasının
B) Sulanabilen tarım alanlarının artmasının
C) Nöbetleşe ekim yapılmasının
D) Türlerin iyileştirilmesi için aşılama yapılmasının
E) Kaliteli tohum kullanılmasının

- 38.



Yukarıdaki haritada X, Y ve Z ile gösterilen yerlerde hangi tarım ürünleri yoğun olarak yetiştirilir?

X	Y	Z
A) Fındık	Haşhaş	Muz
B) Mısır	Haşhaş	Zeytin
C) Fındık	Buğday	Mercimek
D) Çay	Mısır	Ayçiçeği
E) Çay	Buğday	Muz

39. **Aşağıdaki coğrafi bölgelerden hangisi, karşısında verilen tarım ürününün üretim miktarı bakımından Türkiye'de ilk sırada yer almaz?**

- A) İç Anadolu – Arpa
B) Akdeniz – Turunçgiller
C) Marmara – Zeytin
D) Karadeniz – Fındık
E) Ege – İncir

Diğer sayfaya geçiniz.

40. Aşağıdaki tarım ürünlerinden hangisinin Türkiye'deki yetiştirme alanını sınırlandıran etmen diğerlerinden farklıdır?

- A) Haşhaş B) Turunçgiller C) Buğday
D) Kivi E) Mercimek

41. Bir yerde geleneksel yöntemlerle yapılan hayvancılıkta o yerin iklimi, bitki örtüsü ve yer şekilleri gibi doğal koşullar etkili olmaktadır.

Buna göre, aşağıdaki illerin hangisinde, karşısında verilen hayvancılık türünün yapılması beğlenmez?

<u>İl</u>	<u>Hayvancılık türü</u>
A) Bartın	Balıkçılık
B) Sivas	İpek böcekçiliği
C) Rize	Büyükbaş hayvancılık
D) Hakkâri	Arıcılık
E) Konya	Küçükbaş hayvancılık

42. Türkiye'de,

- I. küçükbaş hayvancılığın,
II. sebze ve meyveciliğın,
III. seracılığın,
IV. tahıl tarımının

yapıldığı yerlerin hangilerinde konserve fabrikaları da yaygındır?

- A) I ve II B) I ve III C) II ve III
D) II ve IV E) III ve IV

43. Türkiye'de endüstri kuruluşlarının yoğun olduğu yerler,

- I. aynı coğrafi bölgede yer almaları,
II. fazla göç almaları,
III. enerji kaynakları bakımından zengin olmaları,
IV. ulaşım olanakları bakımından gelişmiş olmaları

özelliklerinin hangileri bakımından ortaktır?

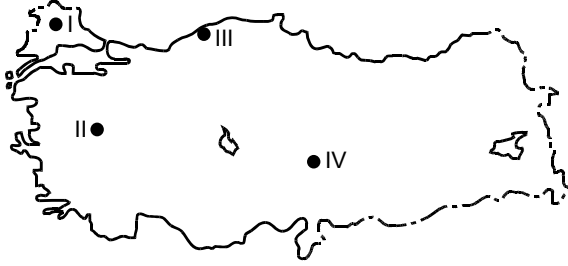
- A) I ve II B) I ve III C) II ve III
D) II ve IV E) III ve IV

44. Aşağıdaki ürünlerden hangisinin Türkiye'nin dış satımındaki payı diğerlerinden daha fazladır?

- A) Elma B) Şeker pancarı C) Fındık
D) Mısır E) Pirinç

Diğer sayfaya geçiniz.

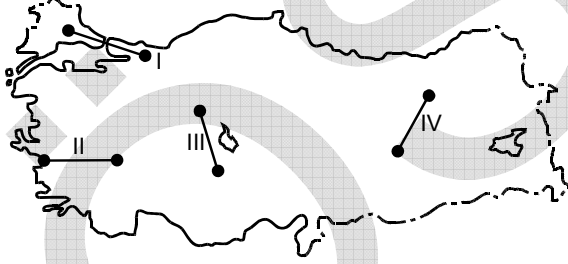
45.



Yukarıdaki haritada numaralarla gösterilen termik santrallerden hangilerinde enerji kaynağı olarak linyit kullanılmaktadır?

- A) I ve II B) I ve III C) II ve III
D) II ve IV E) III ve IV

46.



Yukarıdaki haritada numaralarla gösterilen ve kuş uçuşu uzaklıkları aynı olan yerlerin doğal koşulları göz önüne alındığında, hangilerinde demir yolu yapım maliyetinin daha yüksek olması beklenir?

- A) I ve II B) I ve IV C) II ve III
D) II ve IV E) III ve IV

47. Aşağıdaki tabloda, Türkiye'de 2008 yılına ait iç ve dış hatlardaki uçuş sayısı ve bu uçuşlarda taşınan yolcu sayısı gösterilmiştir.

Uçuş sayısı		Taşınan yolcu sayısı	
İç hat	Dış hat	İç hat	Dış hat
385.764	356.001	35.832.776	43.605.513

Bu tabloya göre,

- I. Uçak başına düşen dış hat yolcu sayısı iç hattan fazladır.
II. İç hat seferlerinden bazıları dış hat bağlantılıdır.
III. İç hat uçuşlarından elde edilen gelir, dış hattan fazladır.

yargılarından hangileri doğrudur?

- A) Yalnız I B) Yalnız II C) Yalnız III
D) I ve II E) II ve III

48. Aşağıdakilerden hangisinin Ege Bölgesi'nde turizmin gelişmesinde rolü yoktur?

- A) Yat turizmi için doğal limanların olması
B) Deniz turizmi için uygun iklim koşullarına sahip olması
C) Sağlık turizmi için kaplıcaların bulunması
D) Kültür turizmi için tarihî eserlerin olması
E) Kış turizmi için kayak tesislerinin bulunması

Diğer sayfaya geçiniz.

49. Aşağıdakilerden hangisi bir sosyal düzen kuralı niteliği tasımaz?

- A) Din kuralları B) Ahlak kuralları
C) Manevi kurallar D) Görgü kuralları
E) Hukuk kuralları

52. 1982 Anayasası'nda 5982 sayılı Kanun'la 2010 yılında yapılan değişiklik sonrası Anayasa Mahkemesi üyeleri kaç yıl için seçilirler?

- A) 5 B) 7 C) 10 D) 12 E) 15

50. Hukukta bir olayın veya olgunun varlığını veya yokluğunu ispata yarayan araçlara ne ad verilir?

- A) Fiil B) Ehliyet C) Marka
D) Delil E) İspat yükü

53. 1982 Anayasası'nda 5982 sayılı Kanun'la 2010 yılında yapılan değişiklik sonrasında Hâkimler ve Savcılar Yüksek Kurulu kaç üyeden oluşur?

- A) 7 asıl, 5 yedek üye
B) 11 asıl, 4 yedek üye
C) 15 asıl üye
D) 17 asıl üye
E) 22 asıl, 12 yedek üye

51. Kişinin doğumundan ölümüne kadar geçen süre içinde özel hukuk ilişkilerinin düzenlendiği temel kanun aşağıdakilerden hangisidir?

- A) T.C. Anayasası B) Türk Ceza Kanunu
C) Borçlar Kanunu D) Türk Ticaret Kanunu
E) Türk Medeni Kanunu

Diğer sayfaya geçiniz.

54. 1982 Anayasası'na göre, Başkomutanlık aşağıdakilerin hangisi tarafından temsil olunur?

- A) Cumhurbaşkanı
- B) Başbakan
- C) TBMM Başkanı
- D) Genelkurmay Başkanı
- E) Millî Savunma Bakanı

56. Hâkimler ve Savcılar Yüksek Kurulunun Başkanı aşağıdakilerden hangisidir?

- A) Adalet Bakanı
- B) Adalet Bakanlığı Müsteşarı
- C) Kurulun en yaşlı üyesi
- D) Kurul üyelerinin kendi aralarından salt çoğunlukla seçeceği kişi
- E) Başbakan

55. 1982 Anayasası'na göre, Cumhurbaşkanının görev süresi kaç yıldır?

- A) 3
- B) 4
- C) 5
- D) 6
- E) 7

57. Kamu düzenini sağlamaya yönelik idari faaliyete ne ad verilir?

- A) Kolluk
- B) Fiilî memur
- C) İdari yaptırım
- D) Disiplin cezası
- E) Düzenleyici işlem

Diğer sayfaya geçiniz.

58. 2010 yılında dünyanın en iyi yedi merkez bankası başkanından biri seçilen Türkiye Cumhuriyet Merkez Bankası Başkanı kimdir?

- A) Durmuş Yılmaz B) Mehmet Şimşek
C) Ali Babacan D) Ahmet Ertürk
E) Gazi Erçel

60. Yerin yaklaşık 700 metre altında iki aydan fazla mahsur kalan 33 maden işçisinin kurtarıldığı ülke aşağıdakilerden hangisidir?

- A) Brezilya B) Kolombiya C) Arjantin
D) Uruguay E) Şili

59. İkili ekonomik ilişkilerde ABD Dolarının devreden çıkarılarak Türk Lirası ve Yuanın kullanılmaya başlandığı ülke aşağıdakilerden hangisidir?

- A) Azerbaycan B) Türkmenistan
C) Japonya D) Çin
E) Pakistan

TEST BİTTİ.

CEVAPLARINIZI KONTROL EDİNİZ.

SINAVDA UYULACAK KURALLAR

1. Cep telefonu ile sınava girmek kesinlikle yasaktır.

Çağrı cihazı, telsiz, fotoğraf makinesi vb. araçlarla; cep bilgisayar, saat her türlü bilgisayar özelliği bulunan cihazlarla; silah ve benzeri teçhizatla; müsvedde kâğıdı, defter, kitap, sözlük, sözlük işlevi olan elektronik aygıt, hesap cetveli, hesap makinesi, pergel, açölçer, cetvel vb. araçlarla da sınava girmek kesinlikle yasaktır. Bu araçlarla sınava girmiş adaylar mutlaka Salon Sınav Tutanağına yazılacak, bu adayların sınavı geçersiz sayılacaktır. **Sınava kalem, silgi, kalemtırış, saat vb. araçla girmek yasaktır. Kulaklık, küpe, broş vb. takı, herhangi bir metal eşya ile girmek de kesinlikle yasaktır. Yiyecek, içecek vb. tüketim malzemeleri de sınava getirilemez.**

2. Bu sınavda verilen toplam cevaplama süresi **120 dakikadır**. Sınav başladıktan sonra **ilk 90** ve **son 15** dakika içinde adayın sınavdan çıkmasına kesinlikle izin verilmeyecektir.

3. Sınav evrakını teslim ederek salonu terk eden aday, her ne sebeple olursa olsun tekrar sınava alınmayacaktır.

4. Cevaplamayı süre bitmeden tamamlarsanız, cevap kâğıdınızı ve soru kitapçığınızı salon görevlilerine teslim ederek salonu terk edebilirsiniz. Sınav süresinin bittiği ilan edildiğinde cevap kâğıtları ve soru kitapçıkları salon görevlileri tarafından toplanıncaya kadar yerlerinizde kalınız.

5. Sınav süresince görevlilerle konuşmak, görevlilere soru sormak yasaktır. Aynı şekilde görevlilerin de adaylarla yakından ve alçak sesle konuşmaları; ayrıca, adayların birbirinden kalem, silgi vb. şeyleri istemeleri kesinlikle yasaktır.

6. Sınav sırasında, görevlilerin her türlü uyarılarına uymak zorundasınız. Sınavınızın geçerli sayılması, her şeyden önce sınav kurallarına uymanıza bağlıdır. Kurallara aykırı davranışta bulunanların ve yapılacak uyarılara uymayanların kimlik bilgileri tutanağa yazılacak ve sınavları geçersiz sayılacaktır.

7. Sınav sırasında kopya çeken, çekmeye kalkışan, kopya veren, kopya çekilmesine yardım edenlerin kimlik bilgileri Salon Sınav Tutanağına yazılacak ve bu adayların sınavları geçersiz sayılacaktır. Görevliler kopya çekmeye veya vermeye kalkışanları uyarmak zorunda değildir, sorumluluk size aittir.

Adayların test sorularına verdikleri cevapların dağılımları bilgi işlem yöntemleriyle incelenecek; bu incelemelerden elde edilen bulgular bireysel veya toplu olarak kopya çekildiğini gösterirse, kopya eylemine katılan adayın/adayların cevaplarının bir kısmı veya tamamı iptal edilecektir. Cevap kâğıdınızı başkaları tarafından görülmeyecek şekilde tutmanız gerekmektedir.

Sınav görevlileri bir salondaki sınavın, kurallara uygun biçimde yapılmadığını, toplu kopya girişiminde bulunulduğunu raporlarında bildirdiği takdirde, ÖSYM takdir hakkını kullanarak bu salonda sınava giren tüm adayların sınavını geçersiz sayabilir.

8. Cevap kâğıdına yazılacak her türlü yazıda ve yapılacak bütün işaretlemelerde kurşun kalem kullanılacaktır. Sınav süresi bittiğinde cevapların cevap kâğıdına işaretlenmiş olması gerekir. Soru kitapçığına işaretlenen cevaplar geçerli değildir.

9. Soru kitapçığınızı alır almaz, sayfaların eksik olup olmadığını, kitapçıkta basım hatalarının bulunup bulunmadığını kontrol ediniz. Soru kitapçığının sayfası eksik veya basım hatalı ise değiştirilmesi için derhâl Salon Başkanına başvurunuz. Soru kitapçığının üzerindeki açıklamaları dikkatle okumadan cevaplama işlemine geçmeyiniz.

10. Cevaplamaya geçmeden önce size verilecek soru kitapçığının üzerinde ayrılan yere adınızı, soyadınızı, T.C. Kimlik Numaranızı ve bu salonun Salon Numarasını yazınız. Sınav sonunda soru kitapçıkları toplanacak ve ÖSYM'de tek tek incelenecektir. Soru kitapçığının bir sayfası bile eksik çıkarsa sınavınız geçersiz sayılacaktır. Cevap kâğıdına ve soru kitapçığına yazılması ve işaretlenmesi gereken bilgilerde bir eksiklik ve/veya yanlışlık olması hâlinde sınavınızın değerlendirilmesi mümkün olamamaktadır. Tarafınızdan yazılması ve işaretlenmesi gereken bu bilgilerde eksiklik ve/veya yanlışlık olması hâlinde durumunuz Salon Sınav Tutanağında belirtilecektir.

11. Soru kitapçığının sayfalarındaki boş yerleri müsvedde için kullanabilirsiniz.

12. Soruları ve/veya bu sorulara verdiğiniz cevapları ayrı bir kâğıda yazıp bu kâğıdı dışarı çıkarmanız kesinlikle yasaktır.

13. Sınav salonundan ayrılmadan önce, soru kitapçığınızı, cevap kâğıdınızı ve bu oturuma ait **2010-KPSS ORTAÖĞRETİM** Sınav Giriş ve Kimlik Belgenizi salon görevlilerine teslim etmeyi unutmayınız.

KAMU PERSONEL SEÇME SINAVI (ORTAÖĞRETİM)

28 KASIM 2010

GENEL YETENEK TESTİ

A KİTAPÇIĞI

- | | | |
|-------|-------|-------|
| 1. C | 21. A | 41. A |
| 2. D | 22. D | 42. A |
| 3. D | 23. C | 43. E |
| 4. E | 24. E | 44. B |
| 5. A | 25. B | 45. C |
| 6. A | 26. D | 46. B |
| 7. C | 27. E | 47. A |
| 8. B | 28. C | 48. E |
| 9. D | 29. A | 49. A |
| 10. C | 30. B | 50. C |
| 11. E | 31. E | 51. D |
| 12. C | 32. C | 52. D |
| 13. B | 33. A | 53. D |
| 14. A | 34. D | 54. A |
| 15. C | 35. A | 55. C |
| 16. B | 36. D | 56. B |
| 17. E | 37. E | 57. C |
| 18. C | 38. E | 58. B |
| 19. E | 39. D | 59. D |
| 20. D | 40. B | 60. E |

KAMU PERSONEL SEÇME SINAVI (ORTAÖĞRETİM)

28 KASIM 2010

GENEL KÜLTÜR TESTİ

A KİTAPÇIĞI

- | | | |
|-------|-------|-------|
| 1. B | 21. C | 41. B |
| 2. A | 22. A | 42. C |
| 3. E | 23. D | 43. D |
| 4. C | 24. A | 44. C |
| 5. E | 25. B | 45. D |
| 6. D | 26. C | 46. B |
| 7. A | 27. D | 47. A |
| 8. D | 28. E | 48. E |
| 9. B | 29. C | 49. C |
| 10. E | 30. A | 50. D |
| 11. A | 31. B | 51. E |
| 12. C | 32. D | 52. D |
| 13. D | 33. B | 53. E |
| 14. C | 34. E | 54. A |
| 15. A | 35. A | 55. C |
| 16. B | 36. C | 56. A |
| 17. E | 37. A | 57. A |
| 18. B | 38. E | 58. A |
| 19. D | 39. C | 59. D |
| 20. E | 40. A | 60. E |